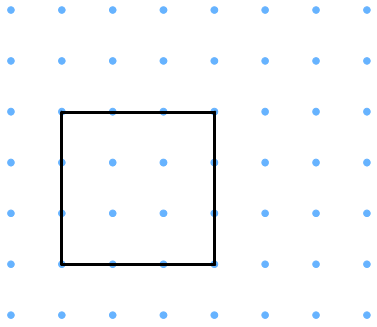


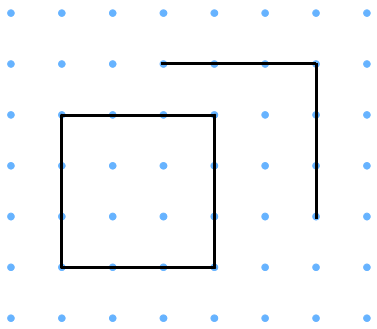


## 書きかた ①

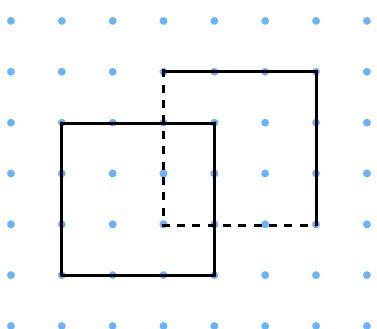
- ① まず、正方形を書きましょう。



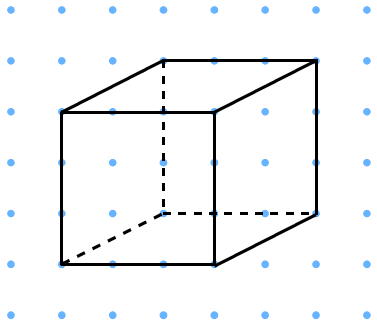
- ② 同じ大きさの立方体を後ろにずらして書きます。(上と右の線は実線)



- ③ 左と下の線は点線で書きます。




- ④ 斜めの線を結びます。(下は点線)




## 練習してみよう!


1回目



2回目



3回目



4回目

