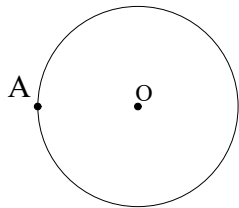


年 組 番 名前 _____

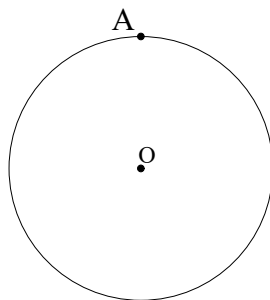
/ 7

1 点Aを通る円Oの接線を作図しなさい。

[1]

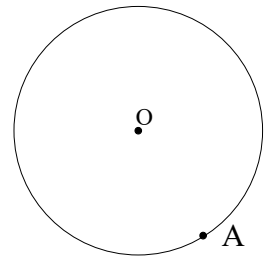


[2]



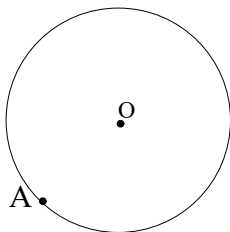
まず、直線OAを
引きましょう

[3]

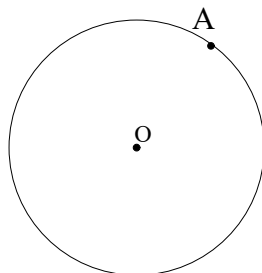


2 円Oの接線のうち、点Aを通る直線を作図しなさい。

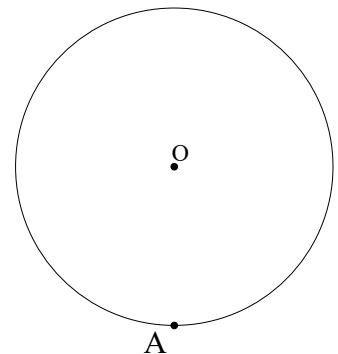
[1]



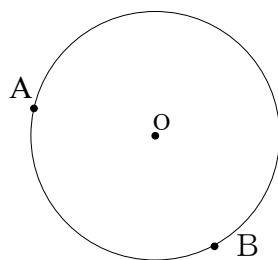
[2]



[3]



3 点Aを通る円Oの接線と点Bを通る円Oの接線の交点Pを作図しなさい。



点Aを通る円の接線と
点Bを通る円の接線を
それぞれ書いて、交わった
点がPです