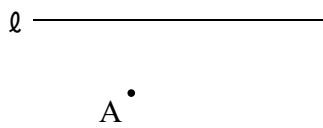


年 組 番 名前 _____

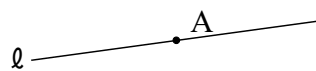
/ 7

1 点Aを通り、直線 l に垂直な線を作図しなさい。

[1]



[2]

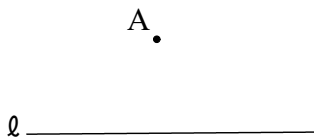


[3]

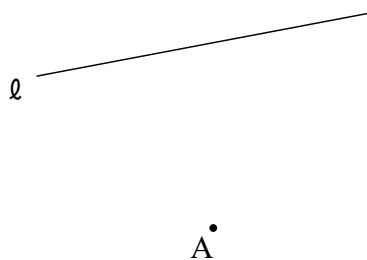


2 直線 l 上にあり、点Aから最も近い距離にある点Pを作図しなさい。


[1]



[2]



[3]



3 $\triangle ABC$ で、辺BCを底辺にしたときの高さを作図しなさい。

